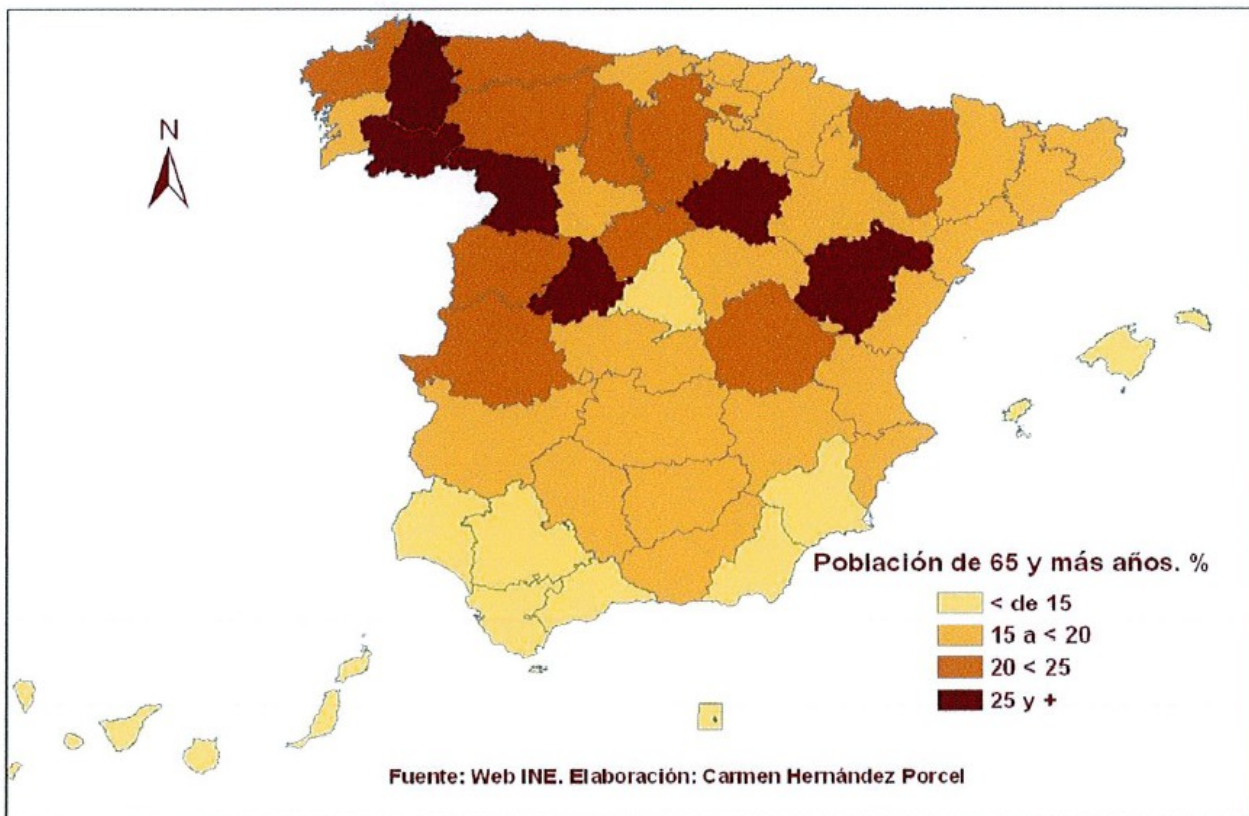


En el mapa siguiente se representa el porcentaje de población vieja en España en 2006, por provincias. Analícelo y conteste a las siguientes preguntas:

- a) Cite las provincias en las que la población es más joven y aquélla en las que está más envejecida. (Hasta 1 punto).
- b) ¿Cuales son las causas del envejecimiento demográfico? (Hasta 1,5 puntos).
- c) ¿A que se deben estos contrastes entre las distintas provincias españolas (Hasta 1,5 puntos).

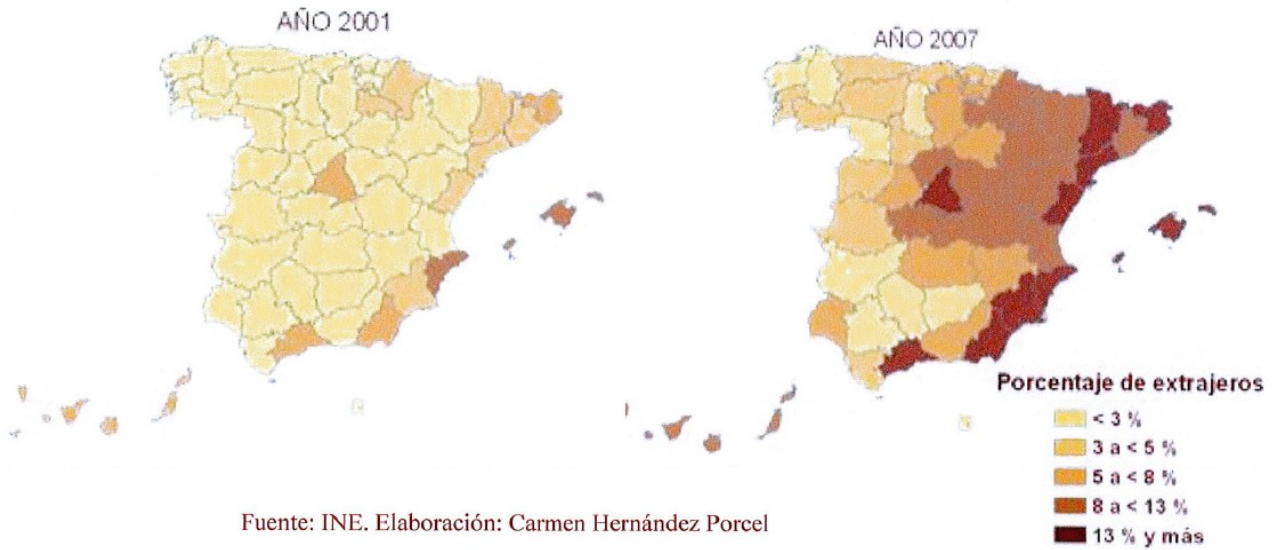
Porcentaje de población de 65 y más años. 2006



Los siguientes mapas representan el porcentaje de extranjeros con respecto al total de población de cada provincia española en dos años diferentes. Analícelos y conteste a las siguientes preguntas:

- ¿Qué provincias tienen más de un 8% de extranjeros en ambos años? (Hasta 1 punto)
- ¿A qué se debe el cambio entre ambas fechas en esas provincias?
- Razone las consecuencias demográficas y sociales de la inmigración en España. (Hasta 1,5 puntos).

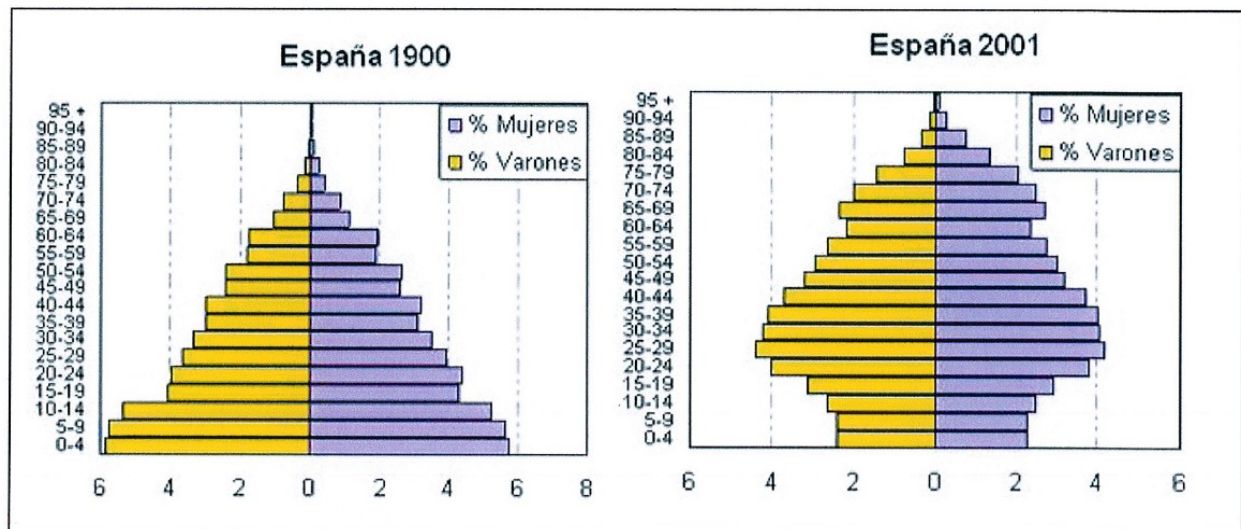
Porcentaje de inmigrantes extranjeros sobre la población total



Las pirámides muestran la estructura por edad y sexo de la población española en 1990 y en 2001. Obsérvelas y conteste:

- Compare la población de 0 a 14 años en ambas figuras. ¿Que diferencias básicas existen?. ¿Qué está ocurriendo en la figura de 2001? ¿Qué consecuencias sociales tiene? (Hasta 1 punto)
- Compare la población de 65 y más años en ambas figuras. ¿Que diferencias básicas existen?. ¿Qué está ocurriendo en la figura de 2001? ¿Qué consecuencias sociales tiene?
- ¿A qué modelo de estructura demográfica corresponde cada una de estas pirámides? Razone la respuesta explicando brevemente las causas que dan lugar a ambos modelos al comienzo y al final del siglo XX. (Hasta 2 puntos)

ESTRUCTURA DE LA POBLACIÓN ESPAÑOLA POR EDAD Y SEXO (%)



Fuente: INE. Elaboración: J. Monteagudo y C. Hernández